

Drodzy Uczniowie! Obiecałam Wam, iż od poniedziałku (29 marca) rozpoczniemy nowy blok tematyczny dotyczący ułamków zwykłych. Niestety kolejna fala pandemii zmusza nas do kontynuowania nauki w trybie zdalnym. W związku z tym musimy odłożyć ułamki na lepszy czas, kiedy powrócimy do nauczania stacjonarnego. Wiadomości, umiejętności dotyczące ułamków zwykłych to zupełnie nowe treści nauczania, z którymi powinniście się zapoznać w trybie tradycyjnym. Dlatego w tygodniu przed i po Świętach Wielkanocnych powtórzymy działania arytmetyczne na liczbach naturalnych.

Zadanie 86: Oblicz sumy sposobem pisemnym

a) oblicz

$$\begin{array}{r} 246 \\ + 32 \\ \hline \end{array} \quad \begin{array}{r} 57 \\ + 312 \\ \hline \end{array} \quad \begin{array}{r} 322 \\ + 565 \\ \hline \end{array} \quad \begin{array}{r} 417 \\ + 362 \\ \hline \end{array} \quad \begin{array}{r} 2541 \\ + 357 \\ \hline \end{array}$$

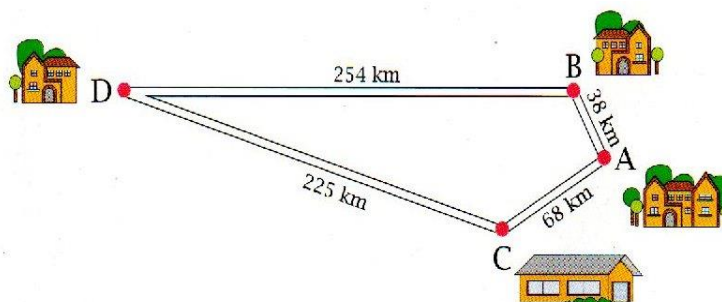
b) dokończ obliczenia

$$\begin{array}{r} 1 \\ 39 \\ + 85 \\ \hline 4 \end{array} \quad \begin{array}{r} 1 \\ 37 \\ + 76 \\ \hline 3 \end{array} \quad \begin{array}{r} 1 \\ 249 \\ + 533 \\ \hline 82 \end{array} \quad \begin{array}{r} 1 \\ 168 \\ + 552 \\ \hline 0 \end{array} \quad \begin{array}{r} 1 \\ 1674 \\ + 287 \\ \hline 1 \end{array} \quad \begin{array}{r} 1 \\ 5628 \\ + 7584 \\ \hline 2 \end{array}$$

c) zapisz w słupku i oblicz

- a) $87 + 92$ b) $58 + 67$ c) $152 + 226$ d) $579 + 84$ e) $374 + 1248$

Zadanie 87: Na mapce przedstawiono połączenia drogowe między czterema miejscowościami. Które połączenie jest krótsze: z A do D przez B czy z A do D przez C?



Zadanie 88: Oblicz różnice sposobem pisemnym

a) oblicz

$$\begin{array}{r} 148 \\ - 36 \\ \hline \end{array} \quad \begin{array}{r} 169 \\ - 39 \\ \hline \end{array} \quad \begin{array}{r} 345 \\ - 123 \\ \hline \end{array} \quad \begin{array}{r} 637 \\ - 425 \\ \hline \end{array} \quad \begin{array}{r} 779 \\ - 376 \\ \hline \end{array}$$

b) dokończ obliczenia

$$\begin{array}{r} 714 \\ 384 \\ - 57 \\ \hline 27 \end{array} \quad \begin{array}{r} 510 \\ 605 \\ - 233 \\ \hline 2 \end{array} \quad \begin{array}{r} 713 \\ 837 \\ - 591 \\ \hline 6 \end{array} \quad \begin{array}{r} 215 \\ 1735 \\ - 306 \\ \hline 9 \end{array} \quad \begin{array}{r} 515 \\ 2651 \\ - 1361 \\ \hline 0 \end{array}$$

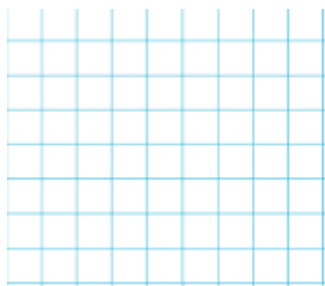
Zadanie 89: Oblicz. O ile złotych obniżono ceny towarów



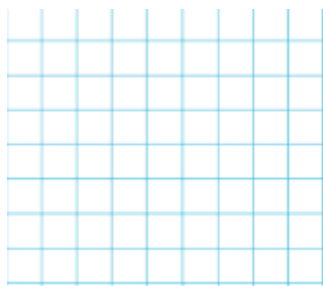
Zadanie 90: Oblicz, o ile suma liczb zapisanych w zielonych prostokątach jest większa od sumy liczb w niebieskich prostokątach



Suma liczb w zielonych prostokątach:



Suma liczb w niebieskich prostokątach:



Różnica liczb:

